

제 1 교시

국 어

1. ㉠에 들어갈 사과의 말로 가장 적절한 것은?



친구의 그림에 물을 쏟았을 때

- ① 네 잘못이 커!
- ② 누가 거기 서 있으래?
- ③ 너, 엄살이 너무 심하구나.
- ④ 미안해. 내가 실수로 그랬어.

2. 느낌을 표현하는 문장은?

- ① 너는 참 멋지구나! ② 네 이름이 뭐니?
- ③ 안녕히 주무세요. ④ 두부 좀 사다 주렴.

3. 다음 글에서 글쓴이의 마음으로 가장 적절한 것은?

유미야, 어제 네가 생일 선물로 준 꽃이 정말 예뻐. 향기도 참 좋았어. 멋진 선물을 주어서 고마워.

- ① 미운 마음 ② 고마운 마음
- ③ 무서운 마음 ④ 아쉬운 마음

4. 문장의 호응 관계가 가장 적절한 것은?

- ① 숲 속에서 토끼가 지저귄다.
- ② 이 창문은 전혀 쓸모가 없다.
- ③ 나는 동생보다 키가 더 무겁다.
- ④ 그것은 결코 바람직한 행동이다.

5. 다음 중 고유어는?

- ① 커피 ② 택시 ③ 하늘 ④ 학교

6. ㉠에 들어갈 뒷받침 문장으로 가장 적절한 것은?

○ 중심 문장
우리나라에는 명절마다 즐겨 하는 전통 놀이가 있습니다.

- (㉠)
- 단오에는 씨름을 합니다.
- 정월 대보름에는 쥐불놀이를 합니다.

- ① 설날에는 연날리기를 합니다.
- ② 규칙적인 운동은 몸을 건강하게 합니다.
- ③ 책을 통해 유익한 정보를 얻을 수 있습니다.
- ④ 교통질서를 지키면 사고를 예방할 수 있습니다.

7. ㉠에 공통으로 들어갈 가장 적절한 낱말은?

- 너는 웃는 (㉠)이/가 참 예쁘구나.
- 나는 창피해서 (㉠)을/를 들 수가 없었다.

- ① 다리 ② 마음 ③ 바다 ④ 얼굴

8. 문장의 구조가 다른 하나는?

- ① 꽃이 예쁘다. ② 가방이 가볍다.
- ③ 토끼가 뛰어간다. ④ 합창단이 노래를 부른다.

[9~10] 다음 글을 읽고 물음에 답하시오.

언젠가는 나도 권영상

언젠가는 나도
늪름한 줄무늬 개구리가 되겠지.
지금은 불품없는 꿈지로
숨죽여 사는 올챙이지만
언젠가는 나도 굵고 큼직한 목소리로
노래 부를 수 있겠지.
개굴개굴개굴개굴

지금은 좁은 물웅덩이에 갇혀 사는
어린 올챙이지만
언젠가는 나도
더 큰 세상으로 (㉠)! 뛰어오르는
늪름한 줄무늬 개구리가 되겠지.

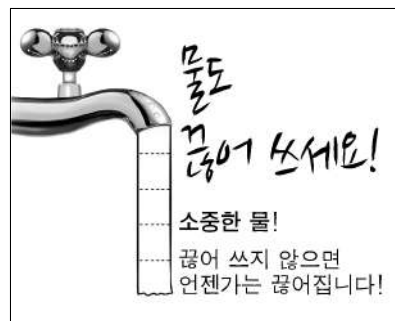
9. 위 시에서 말하는 이는?

- ① 줄무늬 ② 올챙이 ③ 노래 ④ 물웅덩이

10. ㉠에 들어갈 말로 가장 적절한 것은?

- ① 쟁충 ② 꼬르륵 ③ 보글보글 ④ 새근새근

11. 다음 광고에서 전하려는 내용은?



- ① 물을 아껴 쓰자.
- ② 차례를 잘 지키자.
- ③ 부모님께 효도하자.
- ④ 음식을 남기지 말자.

12. 국어사전에서 ㉠의 뜻을 알아보기 위해 찾아야 할 낱말은?



이튿날 새벽, 우리는 일출을 보기 위하여 우도봉에 올랐다. 해가 ㉠ 뜨기 전이라 그런지 어두워서 주변은 잘 보이지 않았다.

- ① 뜨고 ② 뜨다 ③ 뜨니 ④ 뜨면

13. 다음 글의 공간적 배경은?

일이 늦게 끝나 캄캄한 밤에 혼자 집으로 돌아오던 길이었습니다. 풀숲을 지나는데 찬우의 발길에 놀란 반딧불이가 화려르 날아올랐습니다. 반짝반짝 빛을 내며 수십 마리의 반딧불이가 날아오르자 주변이 환하게 밝아졌습니다.

- ① 밤 ② 풀숲 ③ 아침 ④ 반딧불이

[14~15] 다음 글을 읽고 물음에 답하십시오.

서양에 오페라가 있다면 우리나라에는 판소리가 있습니다. 판소리는 오페라와 같은 종합 예술이지만 다른 점이 있습니다. 판소리는 소리꾼이 홀로 수십 명의 역할을 한다는 점에서 특별한 예술입니다. (㉠) 오페라를 공연하기 위해서는 수십 명의 등장인물이 필요합니다.

판소리는 북 하나만 있으면 어느 곳에서도 공연을 할 수 있습니다. 하지만 오페라에는 많은 비용을 들인 무대 장치와 극장이 필요합니다.

14. ㉠에 들어갈 말로 가장 적절한 것은?

- ① 그러나 ② 별로 ③ 비록 ④ 하필

15. 윗글의 내용으로 알맞지 않은 것은?

- ① 판소리와 오페라는 종합 예술이다.
 ② 오페라는 무대장치와 극장이 필요하다.
 ③ 판소리는 북 하나만 있어도 공연할 수 있다.
 ④ 오페라를 공연하기 위해서는 한 명만 필요하다.

16. ㉠에 들어갈 속담으로 가장 적절한 것은?

“(㉠)”라는 말이 있듯이 아무리 어려운 경우에 처하더라도 살아 나갈 방법이 생기면 마련이야.

- ① 찬물도 위아래가 있다.
 ② 가는 말이 고와야 오는 말이 곱다.
 ③ 하늘이 무너져도 솟아날 구멍이 있다.
 ④ 낮말은 새가 듣고 밤말은 쥐가 듣는다.

[17~18] 다음 글을 읽고 물음에 답하십시오.

성공하는 인생을 살고자 한다면 예쁘고 사랑이 담긴 언어를 써야 합니다. 이런 긍정적인 언어들이 성공의 기회를 끌어당기기 때문이지요. 자신이 쓰는 말버릇이 자신을 소중한 사람으로 만들기도, 천박한 사람으로 만들기도 합니다.

성공한 사람들은 지금 쓰는 말버릇이 미래를 좌우한다는 것을 잘 알고 있습니다. 그래서 일이 잘 풀리지 않거나 어떤 어려움에 처해도 거친 말이나 부정적인 말을 ㉠ 쓰지 않으려고 합니다.

17. 글쓴이가 하고 싶은 말은?

- ① 자연을 개발하자.
 ② 손을 깨끗이 씻자.
 ③ 긍정적인 언어를 사용하자.
 ④ 이산화 탄소의 사용량을 줄이자.

18. ㉠과 같은 의미로 사용된 것은?

- ① 약이 쓰다. ② 커피가 쓰다.
 ③ 입맛이 쓰다. ④ 높임말을 쓰다.

[19~20] 다음 글을 읽고 물음에 답하십시오.

(가)	(나)
<p>오후가 되자, 스크루지는 조카의 집을 향해 발길을 옮겼다.</p> <p>스크루지는 열두 번도 더 대문 앞을 지나치고 나서야 두드릴 용기를 냈다. 어쨌든 스크루지는 마음을 단단히 먹고 문을 두드렸다.</p> <p>문을 열어 준 하녀에게 스크루지가 긴장한 표정으로 물었다.</p> <p>“애야, 주인아저씨 계시냐?”</p> <p>“예, 어르신. 식당에 계십니다. 마님과 함께 계세요. 위층으로 모셔다 드릴까요?”</p>	<p>때: 오후</p> <p>곳: 조카의 집</p> <p>등장인물: 스크루지, 하녀</p> <p>㉠ 스크루지는 긴장한 표정으로 조카의 집 현관 앞에서 있다. 그리고 스크루지는 용기를 내어 문을 두드린다.</p> <p>하녀 (문을 열어 얼굴을 내밀며) 누구세요?</p> <p>스크루지 (㉡)</p> <p>애야, 주인아저씨 계시냐?</p> <p>하녀 (공손하고 차분한 목소리로) 예, 어르신. 식당에 계십니다. 마님과 함께 계세요. 위층으로 모셔다 드릴까요?</p>

19. ㉠에 해당하는 희곡의 요소는?

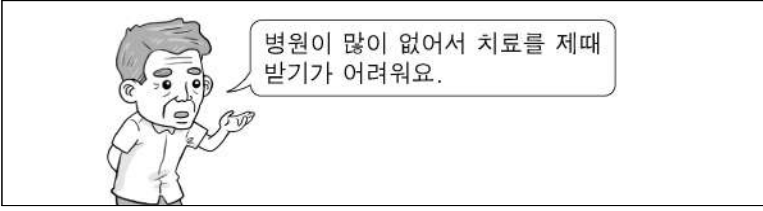
- ① 관객 ② 대사 ③ 배경 ④ 해설

20. (가)를 (나)로 바꾸어 쓸 때 ㉡에 가장 알맞은 말은?

- ① 눈물을 흘리며 ② 소리를 지르며
 ③ 긴장된 표정을 지으며 ④ 행복한 표정을 지으며

제 1 교시 사회

1. 다음에 해당하는 촌락의 문제는?




- ① 환경 오염 ② 소득 감소
- ③ 교통 혼잡 ④ 의료 시설 부족

2. 생활에 필요한 것을 자연에서 얻는 생산 활동은?

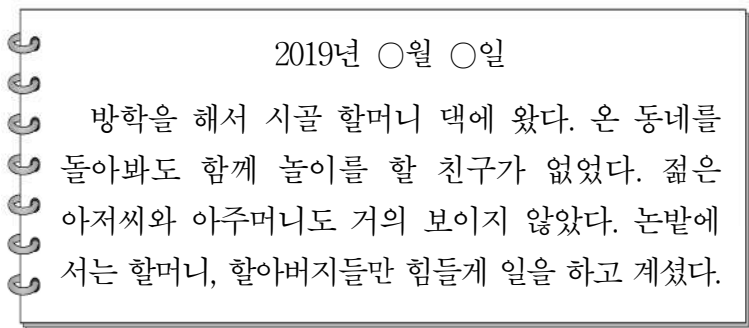
- ① 휴대전화를 만든다.
- ② 강에서 물고기를 잡는다.
- ③ 이삿짐을 화물차로 옮긴다.
- ④ 공장에서 학용품을 만든다.

3. 그림 내용에 해당하는 민주 선거의 원칙은?



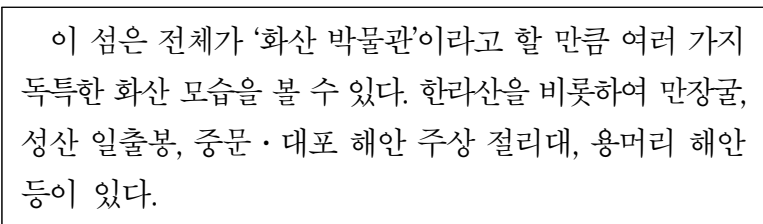
- ① 보통 선거
- ② 비밀 선거
- ③ 직접 선거
- ④ 평등 선거

4. 다음 일기에 나타난 농촌 사회의 문제는?



- ① 고령화 ② 성차별
- ③ 인종 차별 ④ 환경 오염

5. 다음에서 설명하는 곳은?



- ① 독도 ② 강화도 ③ 울릉도 ④ 제주도

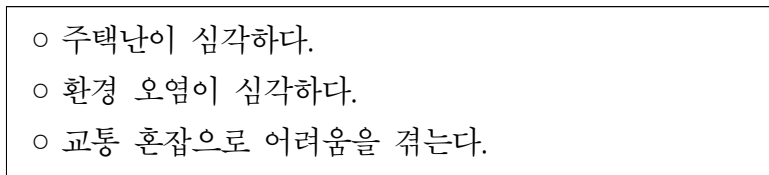
6. 다음 설명에 해당하는 것은?



- 장난감, 컴퓨터 게임, 학용품 등 다양한 분야에서 이용된다.
- 대표적인 예는 '뽀로로', '타요 버스' 등이 있다.

- ① 축산업 ② 조선업
- ③ 양봉업 ④ 캐릭터 산업

7. 대도시에서 다음과 같은 문제점이 생겨나는 원인으로 가장 적절한 것은?



- ① 인구 집중 ② 소득 증대
- ③ 일자리 부족 ④ 미세 먼지 감소

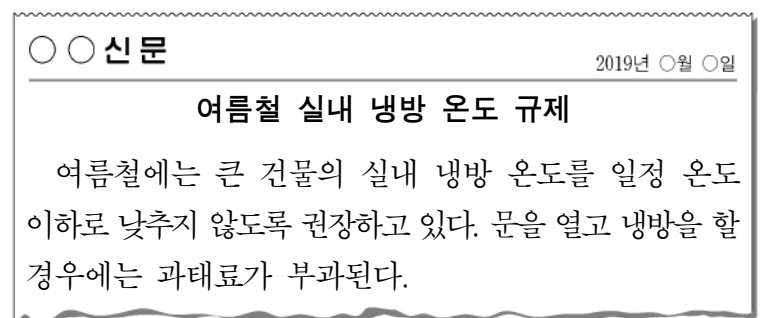
8. 다음에서 설명하는 에너지원은?



- 빛으로 에너지를 생산한다.
- 자연에 무한히 있는 에너지이다.

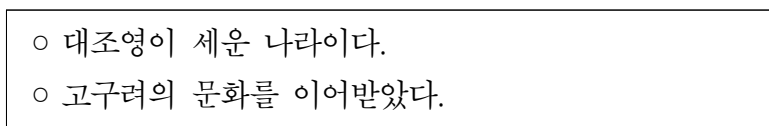
- ① 석유 ② 석탄 ③ 태양광 ④ 천연가스

9. 다음 노력을 통해 해결하고자 하는 것은?



- ① 소음 공해 ② 빈부 격차
- ③ 노사 갈등 ④ 에너지 부족

10. 다음에서 설명하는 나라는?



- ① 백제 ② 신라 ③ 발해 ④ 고조선

11. 다음은 어느 나라의 문화유산인가?



- 신비한 푸른빛의 아름다움을 지닌다.
- 표면에 그림을 그려서 파낸 자리에 다른 색의 흙을 메우고 유약을 발라 구웠다.

- ① 발해 ② 백제 ③ 고려 ④ 통일신라

12. 다음에 해당하는 것은?

- 세종대왕이 만들어 반포하였다.
- 백성을 가르치는 바른 소리라는 뜻이 담겨 있다.

- ① 훈민정음 ② 삼국사기
③ 동의보감 ④ 경국대전

13. 다음에 해당하는 조선 시대의 서민 문화는?

- 소리꾼이 긴 이야기를 노래로 부르면서 몸짓과 말을 섞어 가며 공연하였다.
- 소리꾼이 즉흥적으로 내용을 더하거나 뺄 수 있었다.

- ① 민화 ② 판소리 ③ 풍속화 ④ 한글 소설

14. 다음 내용에 해당하는 사건은?

- 농민들이 폭정에 저항하여 봉기하였다.
- 전봉준이 농민군의 지도자로서 봉기를 이끌었다.

- ① 임오군란 ② 갑신정변
③ 갑오개혁 ④ 동학 농민 운동

15. 다음 내용이 설명하는 것은?

- 1960년 3월 15일에 실시된 부정 선거에 항의하는 수많은 학생과 시민들이 대규모 시위를 벌였다.
- 민주주의를 억압한 독재 정권에 맞서 학생을 비롯한 시민들이 스스로의 힘으로 민주주의를 지켜 낸 사건이다.

- ① 3.1 운동 ② 4.19 혁명
③ 6.25 전쟁 ④ 8.15 광복

16. 다음에서 설명하는 인물은?



- 1932년 4월, 홍커우 공원에서 단상을 향해 폭탄을 던졌다.
- 일본군 사령관을 비롯한 여러 일본 군인들이 죽거나 다쳤다.

- ① 유관순 ② 정약용 ③ 윤봉길 ④ 이순신

17. 다음 설명에 해당하는 기관은?

- 국가 안에서 일어나는 일을 법에 따라 재판한다.
- 재판에 관해서 다른 기관의 간섭을 받지 않는다.

- ① 국회 ② 법원 ③ 정부 ④ 경찰

18. 다음 설명에 해당하는 우리의 이웃 나라는?

- 수도는 베이징이다.
- 만리장성, 자금성 등이 있다.
- 전통 연극인 경극과 무술인 우슈가 유명하다.

- ① 중국 ② 일본 ③ 영국 ④ 러시아

19. 그림을 통하여 알 수 있는 정보 사회의 문제로 가장 적절한 것은?



- ① 스마트폰 중독
② 인터넷으로 빠른 정보 획득
③ 통신망 서비스로 편리하게 소통
④ 상황 관찰기(CCTV)로 인한 개인 정보 침해

20. 편지에서 민서가 여행하고 있는 나라는?

수현이에게
수현아, 나는 지금 가족과 함께 아프리카 여행 중이야.
이곳은 피라미드와 나일강으로 유명한 나라야.
내일은 수도인 카이로에 가 보려고 해,
다음에는 너랑 같이 오면 좋겠어, 그럼 안녕.

2019년 ○월 ○일
민서가

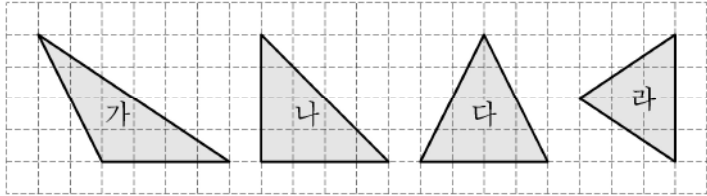
- ① 미국 ② 중국 ③ 이집트 ④ 이탈리아

제 ② 교시 수 학

1. 26578에서 천의 자리 숫자는?

- ① 2 ② 6 ③ 5 ④ 7

2. 다음 도형 중 둔각삼각형인 것은?



- ① 가 ② 나 ③ 다 ④ 라

3. 표는 어느 학교에서 4명의 학생들이 1년간 읽은 책의 권수를 나타낸 것이다. 1년간 150권 이상의 책을 읽으면 독서상을 준다고 할 때, 독서상을 받을 수 있는 학생의 수는?

이름	하준	채아	민서	주완
권수(권)	146	156	136	150

- ① 1명 ② 2명 ③ 3명 ④ 4명

4. 표와 같이 □와 △ 사이의 대응 관계가 □ × 2 = △일 때, ㉠에 들어갈 알맞은 수는?

□	1	2	3	4	5	6	...
△	2	4	6	㉠	10	12	...

- ① 7 ② 8 ③ 9 ④ 10

5. 식을 바르게 계산한 것은?

$$52 + 6 \times 5 - 28$$

- ① 52 ② 53 ③ 54 ④ 55

6. ㉠과 ㉡에 들어갈 알맞은 수를 순서대로 나열한 것은?

$$1\frac{1}{2} \div \frac{3}{4} = \frac{\text{㉠}}{2} \times \frac{4}{3} = \text{㉡}$$

- ① 3, 1 ② 3, 2 ③ 6, 4 ④ 6, 8

7. <보기>에 제시된 수 중 3의 배수의 총 개수는?

<보기>

$$14, 15, 17, 21, 27, 28, 31$$

- ① 3개 ② 4개 ③ 5개 ④ 6개

8. □ 안에 들어갈 수로 알맞은 것은?

$$0.07 = \frac{7}{\square}$$

- ① 1 ② 10 ③ 100 ④ 1000

9. □ 안에 들어갈 수로 알맞은 것은?

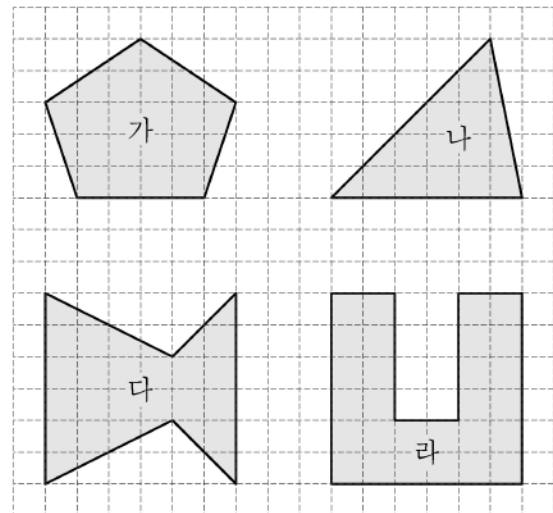
$$3.516 \times 10 = 35.16$$

$$3.516 \times 100 = 351.6$$

$$3.516 \times 1000 = \square$$

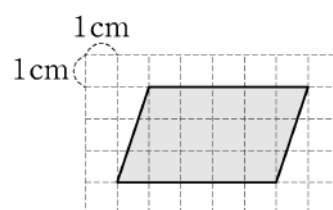
- ① 0.3516 ② 3.516 ③ 3516 ④ 35160

10. 다음 도형 중 선대칭도형이 아닌 것은?



- ① 가 ② 나 ③ 다 ④ 라

11. 다음 평행사변형의 넓이는?



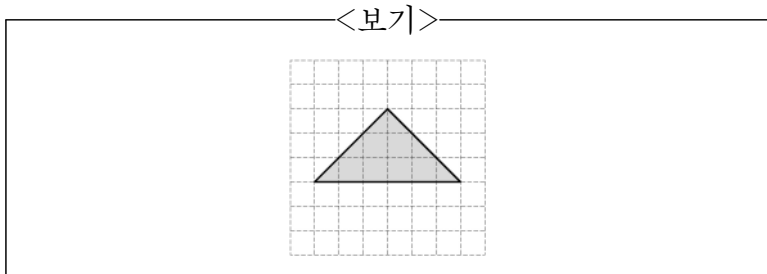
- ① 15 cm²
② 18 cm²
③ 21 cm²
④ 24 cm²

12. 표는 3명의 학생들이 1분 동안 줄넘기를 한 횟수를 나타낸 것이다. ㉠에 들어갈 수는?

이름	지은	서연	주영	합계	평균
횟수(회)	42	49	59	150	㉠

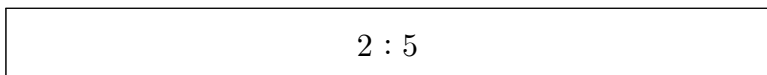
- ① 48 ② 49 ③ 50 ④ 51

13. <보기>의 도형과 합동인 것은?



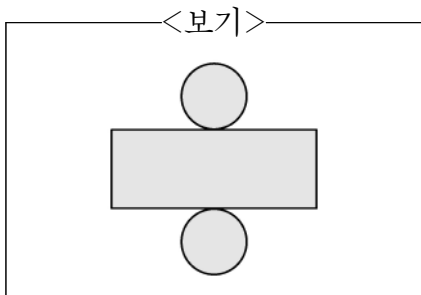
- ① ②
 ③ ④

14. 다음 비의 비율을 분수로 바르게 나타낸 것은?



- ① $\frac{2}{3}$ ② $\frac{2}{5}$ ③ $\frac{3}{5}$ ④ $\frac{3}{7}$

15. <보기>는 어떤 입체도형의 전개도인가?

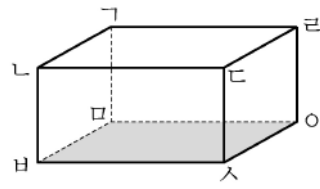


- ① 삼각기둥 ② 사각기둥
 ③ 오각기둥 ④ 원기둥

16. 재영이와 수민이가 가지고 있는 공책 권수의 비는 1:3이다. 재영이가 가지고 있는 공책이 10권일 때, 수민이가 가지고 있는 공책의 권수는?

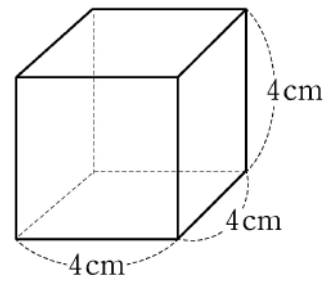
- ① 10권 ② 20권 ③ 30권 ④ 40권

17. 그림의 직육면체에서 색칠한 면 ㉠과 수직인 면이 아닌 것은?



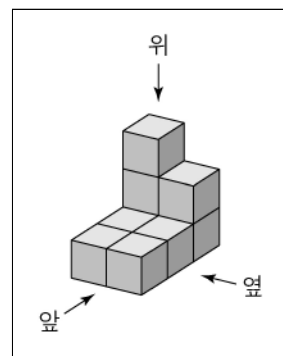
- ① 면 ㉠과 ㉡
 ② 면 ㉠과 ㉢
 ③ 면 ㉡와 ㉣
 ④ 면 ㉢와 ㉤

18. 다음 정육면체의 부피는?



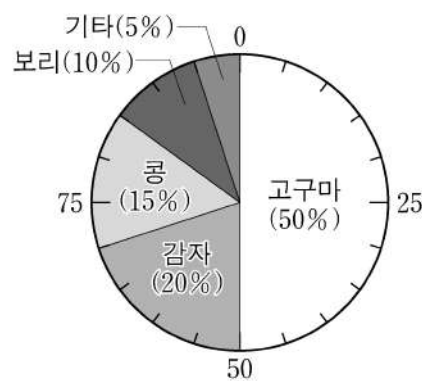
- ① 16 cm^3 ② 32 cm^3 ③ 48 cm^3 ④ 64 cm^3

19. 쌓기나무 9개를 그림과 같이 쌓았을 때, 위에서 본 모양은?



- ① ②
 ③ ④

20. 다음은 어느 지역의 식량작물 생산량을 조사하여 나타낸 원그래프이다. 가장 많이 생산된 작물은?



- ① 콩 ② 감자
 ③ 보리 ④ 고구마

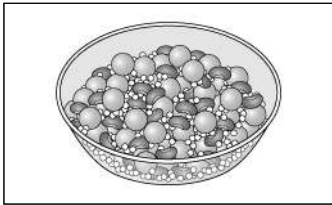
제 2 교시 과학

1. 다음 중 ㉠에 알맞은 말은?

식물의 (㉠)은/는 씨가 싹 트고 자라서 꽃을 피운 다음에 열매를 맺어 다시 씨를 만들고 죽기까지의 과정이다.

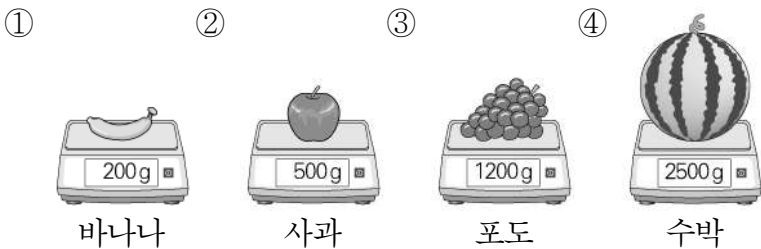
- ① 광합성 ② 한살이
- ③ 증산 작용 ④ 지지 작용

2. 다음 중 콩, 팥, 좁쌀이 섞여 있는 혼합물에서 좁쌀을 분리할 때 사용할 도구로 가장 적절한 것은?



- ① 체
- ② 자석
- ③ 유리 막대
- ④ 증발 접시

3. 그림은 동일한 저울로 여러 열매의 무게를 측정한 것이다. 가장 무거운 것은?



4. 다음 중 지구에 대한 설명으로 옳은 것은?

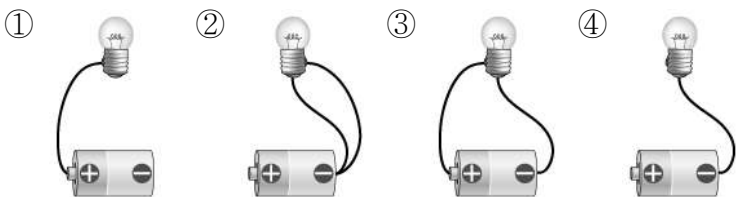
- ① 네모난 모양이다. ② 물과 공기가 있다.
- ③ 생물이 살 수 없다. ④ 달보다 크기가 작다.

5. 그림을 보고 알 수 있는 꽃의 기본 구조가 아닌 것은?



- ① 꽃잎
- ② 뿌리
- ③ 수술
- ④ 암술

6. 다음 중 전구에 불이 켜지는 것은?

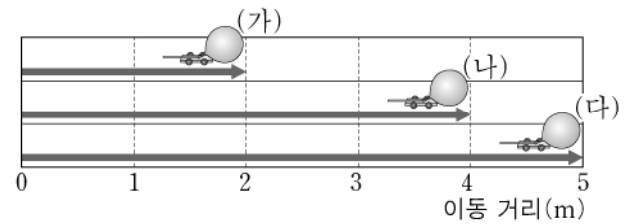


7. 그림의 온도계를 보고 알 수 있는 방 안의 온도는?



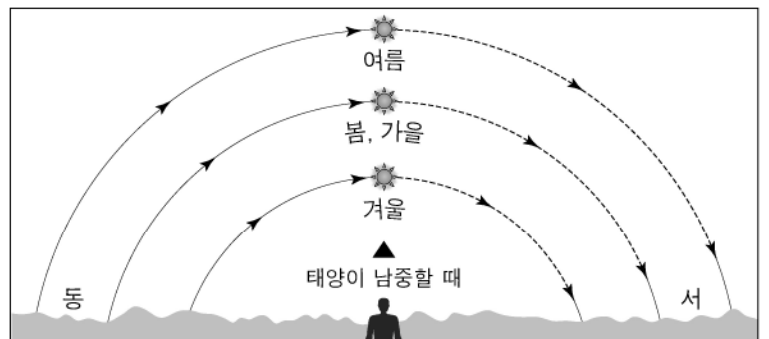
- ① 10°C ② 20°C ③ 30°C ④ 40°C

8. 그림은 같은 시간 동안 풍선 자동차가 이동한 거리를 나타낸 것이다. (가)~(다) 중 가장 느린 것은?



- ① (가) ② (나) ③ (다) ④ 모두 같다.

9. 그림은 우리나라의 계절에 따른 태양의 이동 경로를 나타낸 것이다. 태양의 남중 고도가 가장 높은 계절의 특징으로 옳은 것은?



- ① 낮과 밤의 길이가 같다.
- ② 낮의 길이가 밤의 길이보다 길다.
- ③ 사계절 중 평균기온이 가장 낮다.
- ④ 기온이 영하로 떨어지고 눈이 온다.

10. 다음 중 스스로 양분을 만들지 못하고 식물을 먹이로 하여 살아가는 소비자는?

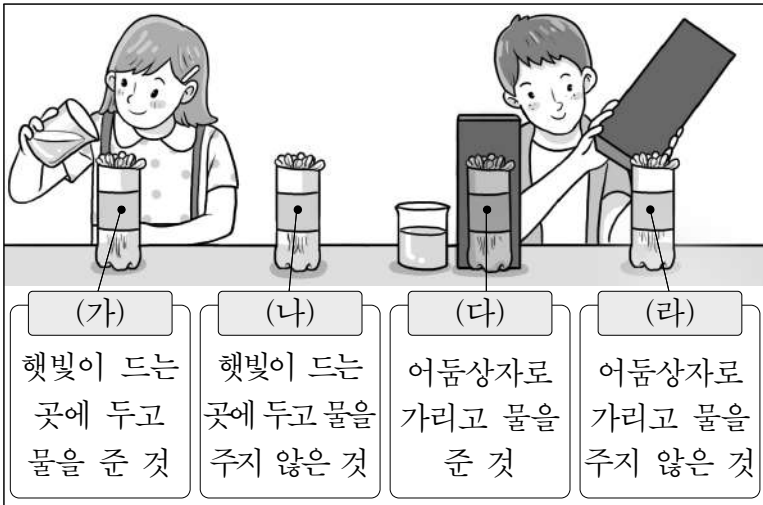
- ① 벼 ② 보리 ③ 메뚜기 ④ 옥수수

11. 그림과 같이 물질이 탈 때 필요한 조건이 아닌 것은?



- ① 물
- ② 산소
- ③ 탈 물질
- ④ 발화점 이상의 온도

12. 그림과 같이 햇빛과 물이 식물이 자라는 데 미치는 영향을 알아보기 위해 콩나물이 들어 있는 페트병 4개를 준비하여 실험하였다.



일주일 후 관찰했을 때 콩나물 떡잎이 진한 초록색으로 변하고 줄기가 가장 굵게 자란 것은?

- ① (가) ② (나) ③ (다) ④ (라)

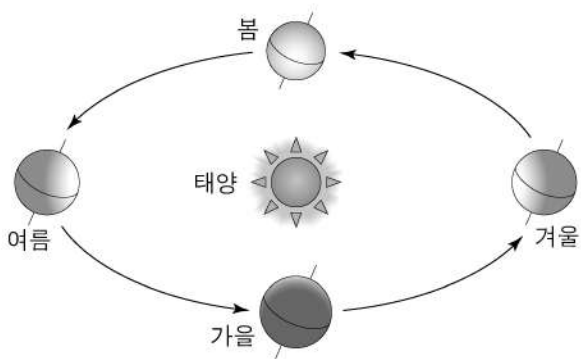
13. 다음 중 이산화 탄소에 대한 설명으로 옳은 것은?

- ① 파란색이다.
 ② 식초 냄새가 난다.
 ③ 다른 물질을 잘 타게 돕는다.
 ④ 사람이 숨을 내쉴 때 나오는 기체 중 하나이다.

14. 다음 중 소금을 물에 녹일 때 더 이상 녹지 않고 남아 있는 소금을 녹이는 방법으로 가장 적절한 것은?

- ① 그대로 둔다. ② 소금물을 열린다.
 ③ 소금을 더 넣는다. ④ 물을 더 넣고 젓는다.

15. 그림과 관련된 다음 설명에서 ㉠에 공통으로 들어갈 말은?



- 지구가 태양을 중심으로 하여 1년에 한 바퀴씩 도는 것을 지구의 (㉠)이라고 한다.
 ○ 지구의 (㉠) 때문에 계절에 따라 보이는 별자리가 달라진다.

- ① 남극 ② 북극 ③ 공전 ④ 자전

16. 표는 태양에서 지구까지의 거리를 1이라고 보았을 때, 태양에서 행성까지의 상대적인 거리를 나타낸 것이다. 태양에서 거리가 가장 가까운 행성은?

행성	수성	금성	지구	화성
상대적인 거리	0.4	0.7	1	1.5

- ① 수성 ② 금성 ③ 지구 ④ 화성

17. 다음 중 우리 생활에서 산과 염기의 성질을 이용한 예로 적절한 것은?

- ① 열이 날 때 찬 수건을 덮는다.
 ② 국이 싱거울 때 소금을 넣는다.
 ③ 설탕을 물에 녹일 때 빨리 젓는다.
 ④ 산성화된 밭에 염기성인 석회를 뿌린다.

18. 다음 중 ㉠에 알맞은 용어는?

우리가 먹은 음식을 잘게 쪼개어 몸에 흡수될 수 있는 형태로 만드는 과정을 (㉠)(이)라고 한다.

- ① 소화 ② 순환 ③ 배설 ④ 호흡

19. 그림과 같이 신문 가까이에 돋보기를 대고 글자를 보았을 때 글자의 모습은?



- ① 글자가 거꾸로 보인다.
 ② 글자가 더 크게 보인다.
 ③ 글자가 더 작게 보인다.
 ④ 글자가 투명해져서 안 보인다.

20. 다음 중 여름철 낮에 모래가 바닷물보다 더 뜨거운 이유로 가장 적절한 것은?



- ① 바람이 모래를 식혀서
 ② 모래가 바닷물을 차갑게 만들어서
 ③ 바닷물이 모래를 뜨겁게 만들어서
 ④ 모래가 바닷물보다 빨리 뜨거워져서

11. 다음 설명에 공통으로 해당하는 것은?

- 동물의 사료나 퇴비 등으로 재활용된다.
- 비닐이나 나무젓가락 등이 섞이지 않았는지 확인하고 배출해야 한다.

- ① 산업용 쓰레기 ② 음식물 쓰레기
- ③ 폐기용 쓰레기 ④ 폐의약품 쓰레기

12. 용돈 기입장에서 지출에 해당하는 내용은?

- ① 부모님께 받은 용돈
- ② 설날에 받은 세뱃돈
- ③ 지난달에 쓰고 남은 돈
- ④ 연필을 구입하는 데 쓴 돈


13. 건강한 식생활을 위한 노력으로 옳지 않은 것은?

- ① 위생적으로 음식을 조리한다.
- ② 신선하고 안전한 식품을 고른다.
- ③ 식품을 위생적으로 관리하고 유통 기한을 지킨다.
- ④ 방부제 같은 식품 첨가물이 많이 포함된 음식을 고른다.

14. 손바느질로 형질 용품을 만드는 과정에 대한 설명으로 옳은 것은?

- ① 구상하기: 만들고 싶은 용품을 생각하는 일
- ② 본뜨기: 형질을 시침질, 홈질, 박음질로 꿰매는 일
- ③ 마름질하기: 사용 후 재료를 정리하는 일
- ④ 바느질하기: 천에 분을 대고 치수에 맞게 자르는 일

15. 다음 설명에 공통으로 해당하는 것은?



- 전기가 흐르면 빛을 낸다.
- 다리가 긴 쪽은 전지의 (+)극, 짧은 쪽은 전지의 (-)극에 연결한다.

- ① 송곳 ② 장갑
- ③ 구둣솔 ④ 발광 다이오드

16. 다음 열쇠고리 만들기에 사용된 방법은?



- 십(十)자 형태로 규칙적인 수를 놓아 캐릭터, 문자 등을 만들 수 있다.

- ① 십자수 ② 대바늘뜨기
- ③ 코바늘뜨기 ④ 재봉틀 바느질

17. 사람의 시각에 해당하며, 빛의 밝기를 감지하는 로봇 센서 장치는?

- ① 빛 센서 ② 소리 센서
- ③ 압력 센서 ④ 기울기 센서


18. 다음 중 방울토마토를 기르는 방법으로 가장 적절한 것은?

- ① 물을 주지 않는다.
- ② 빛이 없는 곳에서 기른다.
- ③ 줄기가 자라면 지지대를 세워 준다.
- ④ 모종과 모종 사이에 간격을 두지 않고 최대한 많이 심는다.

19. 다음 중 동물에게 먹이를 주는 방법으로 가장 적절한 것은?

- ① 염소에게는 주로 고기를 준다.
- ② 성장한 후에는 먹이를 주지 않는다.
- ③ 동물의 종류에 상관없이 동일한 먹이를 준다.
- ④ 동물의 종류와 성장 단계에 알맞은 먹이를 준다.

20. 다음 설명에 해당하는 직업은?



- 예금, 출금 업무를 한다.
- 고객이 맡긴 돈을 관리한다.

- ① 은행원 ② 운동선수
- ③ 자동차 정비사 ④ 패션 디자이너


제 ③ 교시

체 육

1. 다음 중 비만 예방을 위한 생활 습관으로 가장 적절한 것은?

- ① 과식을 하지 않는다.
- ② 탄산음료를 자주 마신다.
- ③ 식사 후에 곧바로 눕는다.
- ④ 기름진 음식을 자주 먹는다.

2. 그림과 같이 동작을 할 때 매트에 가장 먼저 닿아야 할 신체 부위는?

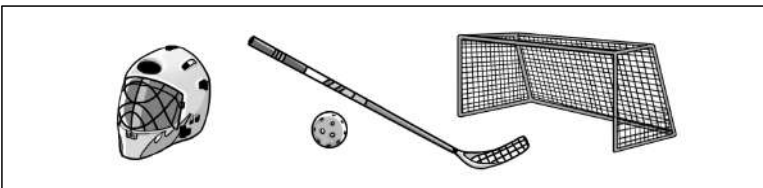


- ① 손 ② 머리 ③ 무릎 ④ 엉덩이

3. 다음 중 농구형 게임에서 사용되는 기술이 아닌 것은?


- ① 공 받기 ② 공 차기
- ③ 공 튀기기 ④ 공 던지기

4. 그림과 같은 장비를 사용하는 게임은?



- ① 농구형 게임 ② 배구형 게임
- ③ 축구형 게임 ④ 하키형 게임

5. 그림과 같은 리듬 표현을 할 때 사용하는 용구는?



- ① 공 ② 곤봉 ③ 리본 ④ 후프

6. 다음 설명에 해당하는 전통 놀이는?



- 작은 돌 다섯 개 또는 여러 개를 바닥에 놓고 즐기는 놀이이다.
- 일정한 규칙에 따라 손으로 집고 받는다.

- ① 공기놀이 ② 사방치기 ③ 연날리기 ④ 팽이치기

7. 다음 설명에 해당하는 체력 요소로 가장 알맞은 것은?

- 우리 몸의 관절을 부드럽고 자유롭게 움직일 수 있는 능력
- 스트레칭이나 요가 등의 운동으로 길러짐

- ① 민첩성 ② 순발력 ③ 유연성 ④ 평형성

8. 다음 중 체력을 기르기 위한 방법으로 적절하지 않은 것은?

- ① 실천 불가능한 운동 계획을 세운다.
- ② 목표 달성 및 계획 실천 여부를 점검한다.
- ③ 생활 속에서 체력 향상을 위해 꾸준히 노력한다.
- ④ 체력 수준을 알고 운동 계획을 수립하여 실천한다.

9. 그림과 같은 높이뛰기 방법에 대한 설명으로 적절하지 않은 것은?



- ① 속도를 높여 도움닫기를 한다.
- ② 가로대를 손으로 짚고 넘는다.
- ③ 가로대에 발이 걸리지 않게 넘는다.
- ④ 발바닥 전체로 강하게 발 구르기를 한다.

10. 다음 중 발야구 게임의 수비 전략이 아닌 것은?

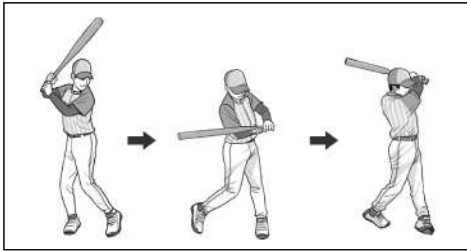
- ① 뜬공과 굴러오는 공을 정확하게 잡기
- ② 공격수의 특징을 알고 수비할 위치 정하기
- ③ 뜬공을 누가 받을 것인지 크게 외쳐 알려 주기
- ④ 공 차기와 달리기 능력을 고려하여 공 차는 순서 정하기

11. 다음 중 ㉠에 공통으로 들어가는 멀리뛰기 동작은?

상희: 멀리뛰기를 잘하기 위해서는 ㉠을/를 할 때 발바닥 전체로 힘차게 굴러야 해.
 준호: ㉠을/를 할 때 발이 구름판을 넘어서면 안 돼.

- ① 도움닫기 ② 발 구르기 ③ 공중 동작 ④ 착지

12. 그림에 해당하는 게임은?



- ① 농구형 게임
 ② 야구형 게임
 ③ 축구형 게임
 ④ 핸드볼형 게임

13. 다음 설명에 해당하는 민속 무용은?



- 정월 대보름이나 추석과 같은 명절에 추는 춤이다.
- 여러 사람이 함께 손을 잡고 원을 돌면서 춤을 춘다.

- ① 탈춤 ② 강강술래
 ③ 티니클링 ④ 구스타프스 스킨

14. 다음 중 안전하게 운동하기 위해 지켜야 할 사항이 아닌 것은?

- ① 부상이 있어도 참고 운동한다.
 ② 자신의 수준에 맞는 강도로 운동한다.
 ③ 운동 전과 후에 준비운동과 정리운동을 한다.
 ④ 운동 종목에 맞는 복장과 보호 장비를 착용한다.


15. 다음 중 생활 주변에서 체험하는 여가 활동과 시설이 바르게 연결되지 않은 것은?

- ① 배구 - 배구장 ② 농구 - 농구장
 ③ 축구 - 축구장 ④ 래프팅 - 배드민턴장

16. 다음 중 태권도 공격 기술에 해당하는 것은?

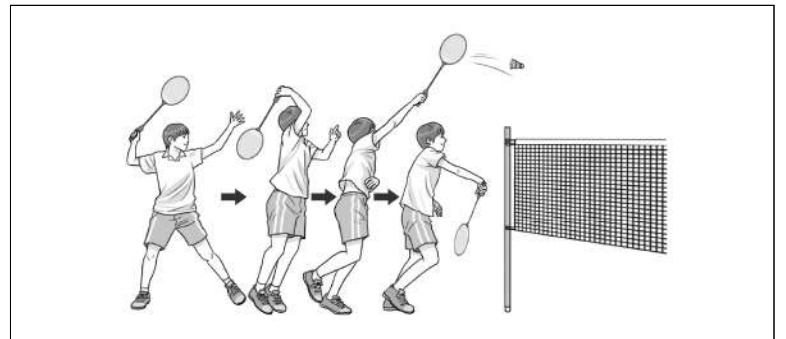


17. 그림에 해당하는 게임의 설명으로 적절한 것은?




- ① 골대 안에 공을 넣어 승부를 겨룬다.
 ② 공으로 상대방을 맞춰 승부를 겨룬다.
 ③ 표적을 정확하게 맞춰 승부를 겨룬다.
 ④ 목표물을 공으로 쓰러뜨려서 승부를 겨룬다.

18. 그림에 해당하는 게임은?



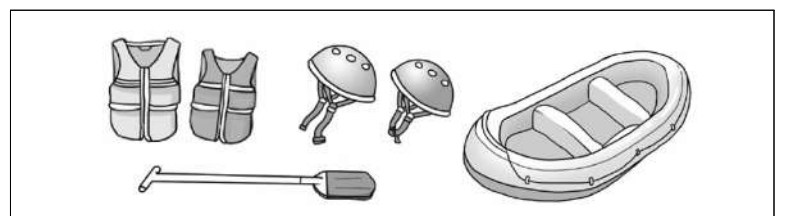
- ① 농구형 게임 ② 배구형 게임
 ③ 야구형 게임 ④ 배드민턴형 게임

19. 그림에 해당하는 게임의 설명으로 적절한 것은?



- ① 배트로 공을 친다.
 ② 표적을 쓰러뜨린다.
 ③ 네트 위로 공을 넘긴다.
 ④ 상대방의 골대에 공을 넣는다.

20. 그림과 같은 장비를 사용하는 여가 활동은?



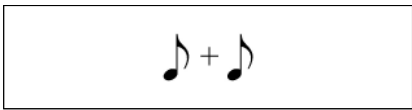
- ① 등산 ② 수영 ③ 스키 ④ 래프팅

제 ③ 교시 음악

1. 다음 중 $\frac{4}{4}$ 박자 곡의 셈여림으로 알맞은 것은?

- ① ○ ○ ② ○ ○ ○ ○
 ③ ○ ○ ○ ○ ④ ○ ○ ○ ○ ○ ○

2. 다음과 길이가 같은 음표는?

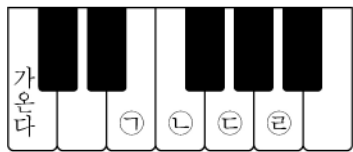


- ① ② ③ ④

3. 다음 중 '조금 세게'를 나타내는 셈여림 기호는?

- ① *p* ② *mp* ③ *mf* ④ *f*

4. 다음 악보의 음을 연주할 때 건반의 올바른 위치는?



- ① ㉠ ② ㉡ ③ ㉢ ④ ㉣

[5~6] 다음 악보를 보고 물음에 답하시오.



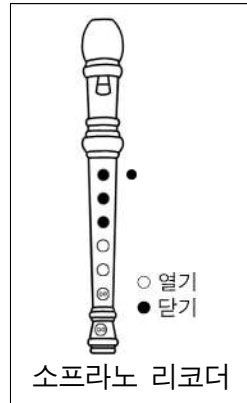
5. 위 곡에 해당하는 음악의 종류는?

- ① 민요 ② 산조 ③ 시조 ④ 제례악

6. 위 곡에 대한 설명으로 알맞지 않은 것은?

- ① 떠는소리가 있다.
 ② 꺾는소리가 있다.
 ③ 곡의 제목은 「도라지타령」이다.
 ④ 메기는소리와 받는소리가 있다.

7. 다음 그림과 같이 연주할 때 해당하는 음은?



- ① ②
 ③ ④

8. 다음 굿거리장단에서 ㉠의 구음으로 알맞은 것은?



㉠ 기 덕 쿵 (㉠) 쿵 기 덕 쿵 (㉠)

- ① 더 ② 덩덕 ③ 쿵덕 ④ 더러러러

9. 다음 중 ㉠을 바르게 표현한 가락선은?



- ① ②
 ③ ④

10. 다음 중 연주 순서로 알맞은 것은?



- ① ㉠ → ㉡ → ㉢ → ㉣
 ② ㉠ → ㉡ → ㉢ → ㉣ → ㉠ → ㉡
 ③ ㉠ → ㉡ → ㉢ → ㉣ → ㉢ → ㉣
 ④ ㉠ → ㉡ → ㉢ → ㉣ → ㉠ → ㉡ → ㉢ → ㉣

11. 다음 중 사물놀이 악기에 해당하는 것은?

①



해금

②



팽과리

③



트럼펫

④



팀파니

12. 다음 설명에 해당하는 것은?

- 주로 행진할 때 발을 맞추기 위해 사용되는 곡이다.
- 「라데츠키 행진곡」, 「위풍당당 행진곡」 등이 있다.

- ① 난타 ② 왈츠 ③ 부채춤 ④ 행진곡

13. 다음 중 입으로 불어 소리를 내는 악기가 아닌 것은?

①



단소

②



호른

③



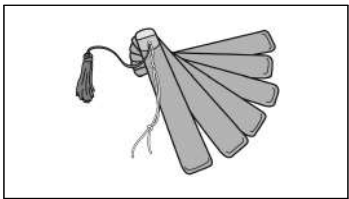
태평소

④



가야금

14. 다음 그림에 해당하는 악기 이름은?



- ① 박
② 장구
③ 피리
④ 탬버린

15. 다음 설명에 해당하는 극음악은?

- 여러 사람의 소리꾼이 배역을 맡아 연기한다.
- 국악 관현악 또는 실내악 반주에 맞추어 판소리 창법으로 노래한다.

- ① 경극 ② 창극 ③ 가부키 ④ 오페라

16. 다음 그림에 해당하는 연주 형태는?



- ① 독주
② 독창
③ 합주
④ 합창

17. 다음 중 ㉠에 어울리는 화음은?

화음 화음 사이 좋은 화음 삼형제

① (도미솔) ② (미솔시) ③ (파라도) ④ (솔시레)

18. 다음 중 ㉠에 알맞은 음표는?

이 세 상 모 든 것

① ② ③ ④

19. 다음 중 짧게 끊어서 연주하라는 뜻의 악상 기호는?

① 늘임표 ② 스타카토
③ 도돌이표 ④ 악센트

20. 다음 설명에 해당하는 것은?

나는 오늘 사람들이 탈을 쓰고 음악에 맞추어 춤추고 노래하며 연기하는 공연을 보았다.

- ① 탈춤 ② 대취타 ③ 일노래 ④ 사물놀이

제 ③ 교시

미술

1. 다음 그림이 의미하는 것은?



- ① 비상구
- ② 주차 금지
- ③ 휴대전화 쓰기
- ④ 자전거 통행 금지

2. 다음 중 자연물로 만든 작품은?

①



〈나무로 만든 잠자리〉

②



〈장갑으로 만든 인형〉

③



〈주전자로 만든 놀이터〉

④



〈플라스틱 통으로 만든 매미〉

3. 다음 중 판본체가 아닌 것은?

①

하

②

안

③

구

④

름

4. 다음 그림의 소재는?



- ① 국화
- ② 난초
- ③ 대나무
- ④ 소나무

5. 다음 중 우리나라 건축물이 아닌 것은?

①



〈경복궁 근정전〉

②



〈베르사유 궁전〉

③



〈수원 화성〉

④



〈부석사 무량수전〉

6. 다음 중 미술관 관람 예절로 가장 적절한 것은?

- ① 떠들거나 뛰어다닌다.
- ② 작품 앞에서 음식을 먹는다.
- ③ 사진 촬영은 허용된 곳에서만 한다.
- ④ 허락 없이 마음대로 작품을 만진다.

7. 색상환에서 반대색끼리 연결한 것은?



10색상환

- ① 주황 - 파랑
- ② 노랑 - 연두
- ③ 파랑 - 남색
- ④ 보라 - 자주

8. 두 그림이 공통적으로 전달하는 내용은?



- ① 교통 안전
- ② 화재 예방
- ③ 환경 보호
- ④ 고운 말 사용

9. 다음 그림에 대한 설명으로 바르지 않은 것은?



호베마, 〈미델하르니스의 가로수 길〉

- ① 풍경화이다.
- ② 평면 작품이다.
- ③ 가로수 길을 그렸다.
- ④ 우리나라 작가의 작품이다.

10. 다음 중 고무 판화 제작 과정에서 가장 나중에 하는 것은?

- ㉠ 조각칼로 고무판을 새긴다.
- ㉡ 고무판에 잉크를 골고루 칠한다.
- ㉢ 밑그림을 그려서 고무판에 옮긴다.
- ㉣ 고무판 위에 종이를 얹고 문질러 찍는다.

- ① ㉠
- ② ㉡
- ③ ㉢
- ④ ㉣

11. 다음과 같이 먹과 물을 재료로 사용한 그림의 종류는?



강규성, <도곡리 정경>

- ① 유화
- ② 수묵화
- ③ 파스텔화
- ④ 크레파스화

12. 다음 설명에 해당하는 것은?



<무용총 수렵도>

- 무덤 안의 천장이나 벽면에 그렸다.
- 그 시대의 생활 모습과 문화를 알 수 있다.

- ① 탑
- ② 백자
- ③ 불상
- ④ 고분 벽화

13. 다음 작품의 발상에 사용된 결합 소재는?



김미인·서정국, <로치타>

- ① 구름 - 빵
- ② 치타 - 장미
- ③ 풍차 - 나비
- ④ 코끼리 - 나팔


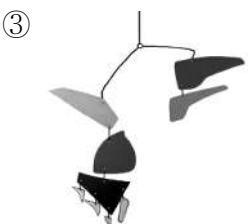
14. 다음 설명에 해당하는 표현 방법은?



정지해 있는 그림을 연결하여 움직이는 것처럼 표현한다.

- ① 모빌
- ② 조소
- ③ 포스터
- ④ 애니메이션

15. 다음 중 대칭이 가장 잘 나타나는 것은?



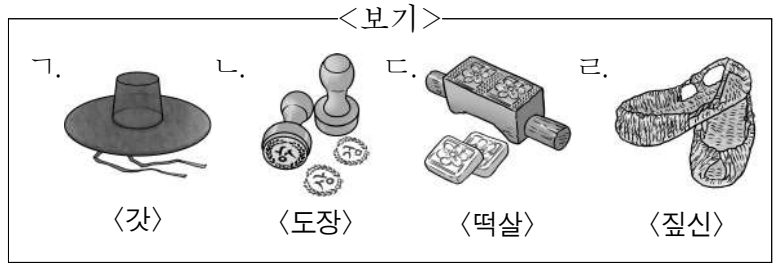
16. 그림에 대한 설명으로 가장 적절한 것은?



김홍도, <씨름도>

- ① 씨름하는 모습을 그렸다.
- ② 종이를 잘라 붙여 표현했다.
- ③ 색연필을 사용하여 표현했다.
- ④ 모든 사람들이 같은 자세로 서 있다.

17. 판화 기법을 활용한 생활 용품으로 옳은 것을 <보기>에서 고른 것은?






- ① 가, 나
- ② 나, 다
- ③ 나, 라
- ④ 다, 리

18. 다음 설명에 해당하는 표현 기법은?

밝은 색으로 칠한 바탕 위에 어두운 색 크레파스로 덧칠한 다음 날카로운 도구를 사용하여 긁어낸다.

- ① 불기
- ② 번지기
- ③ 뿌리기
- ④ 스크래치

19. 원근감이 가장 잘 드러난 작품은?



20. 찰흙으로 환조를 만드는 순서를 바르게 나열한 것은?



- ㉠ 노끈 위에 찰흙 붙이기
- ㉡ 뼈대에 노끈 감기
- ㉢ 뼈대 만들기
- ㉣ 다듬어 완성하기

- ① ㉠-㉡-㉢-㉣
- ② ㉠-㉢-㉣-㉡
- ③ ㉢-㉡-㉠-㉣
- ④ ㉣-㉢-㉡-㉠


제 3 교시

영 어

1. 알파벳 대문자와 소문자가 바르게 연결된 것은?

- ① A - w ② D - b ③ J - f ④ R - r

2. 빈칸에 공통으로 들어갈 철자로 알맞은 것은?



- ① b ② c ③ k ④ s

3. 빈칸에 들어갈 낱말로 가장 적절한 것은?

A: Is this your umbrella?
 B: Yes, it's _____.

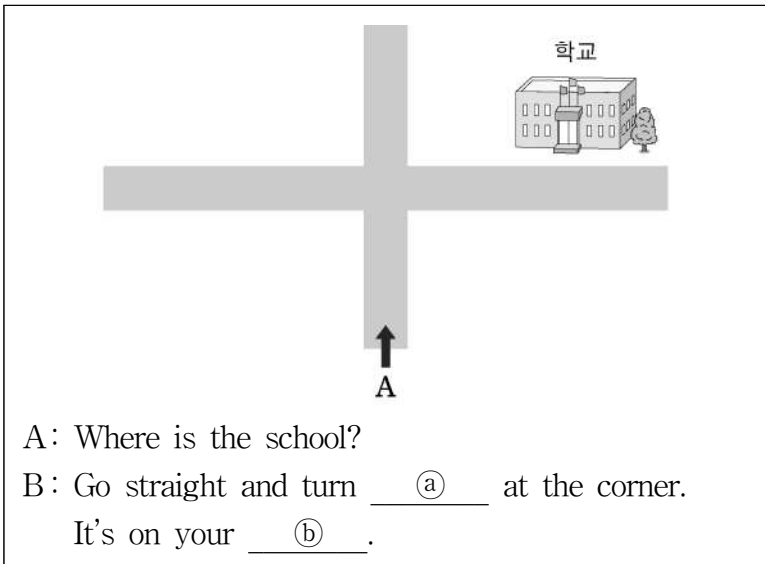
- ① my ② mine ③ you ④ your

4. A의 물음에 대한 거절의 표현으로 알맞은 것은?

A: Can you come to my party?
 B: _____

- ① Sure. ② Of course!
- ③ Sorry, I can't. ④ Yes, I will be there.

5. 그림으로 보아 빈칸 ㉠, ㉡에 들어갈 낱말로 알맞은 것은?



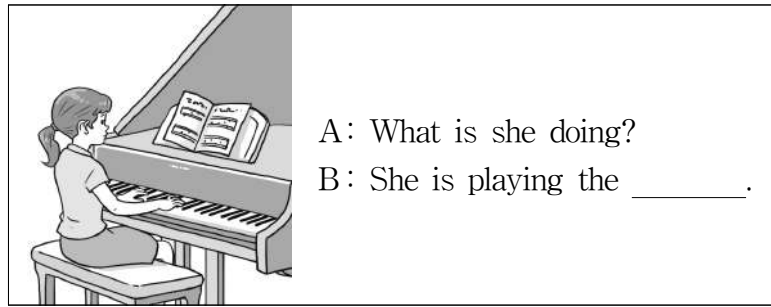
- ① left left ② left right
- ③ right left ④ right right

6. 제이크(Jake)가 진호(Jinho)에게 전화를 한 이유는?

Jake : Hello, may I speak to Jinho?
 Jinho : Speaking.
 Jake : Let's go shopping tomorrow.

- ① 오늘 함께 수영하러 가기 위해
- ② 오늘 함께 영화 보러 가기 위해
- ③ 내일 함께 낚시하러 가기 위해
- ④ 내일 함께 쇼핑하러 가기 위해

7. 빈칸에 들어갈 낱말로 알맞은 것은?



- ① drum ② piano ③ guitar ④ violin

8. B의 증상에 대해 A가 제안한 내용은?

A: What's wrong?
 B: I have a cold.
 A: Get some rest.

- ① 약 먹기 ② 운동하기
- ③ 휴식 취하기 ④ 따뜻한 물 마시기

9. 치마의 가격으로 알맞은 것은?

A: How much is this T-shirt?
 B: It's fifteen dollars.
 A: How much is that skirt?
 B: It's fifty dollars.

- ① \$5 ② \$15 ③ \$50 ④ \$150

10. 그림과 일치하는 것은?



- ① He has a dog.
- ② He has a bird.
- ③ He is wearing a cap.
- ④ He is wearing glasses.


11. B의 여름 방학 계획으로 알맞은 것은?

A: What are you going to do this summer vacation?
 B: I'm going to go camping. How about you?
 A: I'm going to visit my uncle.
 B: Sounds great!

- ① 영화 보기 ② 캠핑 가기
- ③ 그림 그리기 ④ 수영장 가기

12. 그림으로 보아 빈칸 ㉠, ㉡에 들어갈 낱말로 알맞은 것은?

A: Where is the pen?
 B: It is ㉠ the ㉡.




- | | | |
|---|---------|--------|
| | ㉠ | ㉡ |
| ① | in | cup |
| ② | under | cup |
| ③ | behind | chair |
| ④ | between | chairs |

13. 빈칸에 들어갈 낱말로 가장 적절한 것은?

A: _____ do you want to be?
 B: I want to be a doctor.

- ① How ② What ③ When ④ Where

14. 그림으로 보아 빈칸에 들어갈 낱말로 알맞은 것은?



The baseball is _____ than the basketball.

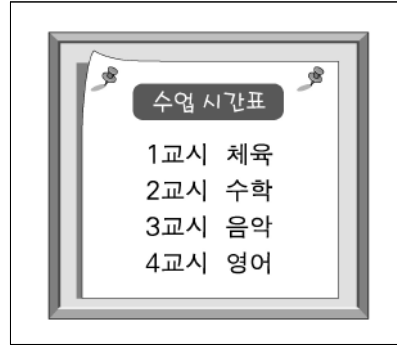
- ① bigger ② longer ③ taller ④ smaller

15. 요일 순서대로 배열할 때 □ 안에 들어갈 낱말로 알맞은 것은?

Sunday - Monday - □ - Wednesday

- ① Tuesday ② Thursday
- ③ Friday ④ Saturday

16. 다음 수업 시간표에 들어 있지 않은 과목은?



- ① Math
- ② Music
- ③ English
- ④ Science

17. B가 지금 있는 곳은?

A: Where are you now?
 B: I am in the kitchen.

- ① 거실 ② 부엌 ③ 침실 ④ 화장실

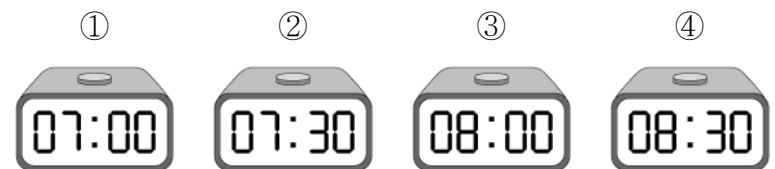
18. A가 B에게 제안한 것은?

A: We should save the Earth.
 How about recycling cans?
 B: Good idea!

- ① 불 끄기 ② 캔 재활용하기
- ③ 수도꼭지 잠그기 ④ 음식 남기지 않기

19. 미나(Mina)가 일어나는 시각은?

My name is Mina. I get up at seven. I eat breakfast at seven thirty. I go to school at eight.



20. 일기의 내용으로 보아 '나(I)'가 하지 않은 일은?

My Birthday

Saturday, May 4, Sunny

Today was my birthday. I went to the park with my family. I ate *gimbap* and played games. I was very happy.

- ① 게임하기 ② 공원 가기
- ③ 김밥 먹기 ④ 선물 사기

국어 정답표

문항번호	정 답	문항번호	정 답
1	④	11	①
2	①	12	②
3	②	13	②
4	②	14	①
5	③	15	④
6	①	16	③
7	④	17	③
8	④	18	④
9	②	19	④
10	①	20	③

사회 정답표

문항번호	정 답	문항번호	정 답
1	④	11	③
2	②	12	①
3	③	13	②
4	①	14	④
5	④	15	②
6	④	16	③
7	①	17	②
8	③	18	①
9	④	19	①
10	③	20	③

수학 정답표

문항번호	정 답	문항번호	정 답
1	②	11	①
2	①	12	③
3	②	13	①
4	②	14	②
5	③	15	④
6	②	16	③
7	①	17	①
8	③	18	④
9	③	19	④
10	②	20	④

과학 정답표

문항번호	정 답	문항번호	정 답
1	②	11	①
2	①	12	①
3	④	13	④
4	②	14	④
5	②	15	③
6	③	16	①
7	③	17	④
8	①	18	①
9	②	19	②
10	③	20	④

도덕 정답표

문항번호	정 답	문항번호	정 답
1	②	11	④
2	①	12	②
3	①	13	②
4	③	14	③
5	①	15	③
6	④	16	④
7	④	17	②
8	④	18	③
9	①	19	①
10	③	20	①

실과 정답표

문항번호	정 답	문항번호	정 답
1	①	11	②
2	③	12	④
3	③	13	④
4	②	14	①
5	①	15	④
6	④	16	①
7	②	17	①
8	③	18	③
9	②	19	④
10	④	20	①

체육 정답표

문항번호	정 답	문항번호	정 답
1	①	11	②
2	①	12	②
3	②	13	②
4	④	14	①
5	③	15	④
6	①	16	③
7	③	17	③
8	①	18	④
9	②	19	③
10	④	20	④

음악 정답표

문항번호	정 답	문항번호	정 답
1	③	11	②
2	②	12	④
3	③	13	④
4	④	14	①
5	①	15	②
6	③	16	①
7	③	17	③
8	④	18	①
9	④	19	②
10	③	20	①

미술 정답표

문항번호	정 답	문항번호	정 답
1	①	11	②
2	①	12	④
3	③	13	②
4	①	14	④
5	②	15	①
6	③	16	①
7	①	17	②
8	③	18	④
9	④	19	②
10	④	20	③

영어 정답표

문항번호	정 답	문항번호	정 답
1	④	11	②
2	③	12	①
3	②	13	②
4	③	14	④
5	③	15	①
6	④	16	④
7	②	17	②
8	③	18	②
9	③	19	①
10	④	20	④